

AVALIAÇÃO FORMATIVA DE OUTUBRO – 2º Ano

LINGUA PORTUGUESA

Nome _____ Class. _____

Data _____ A Profª _____

O castanheiro

Era uma vez um castanheiro que tinha castanhas muito bonitas e boas. O castanheiro morava num jardim lindo junto da escola da Joantina. Quando veio o Outono as folhas do castanheiro ficaram amarelas, vermelhas e castanhas. Que bonito ! A Joantina todos os dias ficava a olhar para ele toda contente...



1. De que árvore fala o texto? _____

2. Como eram as suas castanhas? _____

3. Onde morava o castanheiro? _____

4. Como ficaram as folhas do castanheiro quando chegou o Outono?

5. Como se chamava a menina que tanto gostava de olhar para o castanheiro durante o Outono? _____



6. Escreve frases com as palavras:

castanheiro _____

Outono _____

Folhas _____

Joaninha _____

7. Separa as sílabas das palavras:

Outono _____ escola _____


Castanhas _____ amarelas _____

8. Completa com **nh**, **lh** ou **ch** :

coe.....o gali.....a apéu ocolate

mi.....o Joani.....a pi....eiro fo.....a

Escreve um pequeno texto sobre o **Outono** , ou se quiseres sobre as **castanhas**:



AVALIAÇÃO FORMATIVA DE OUTUBRO – 2º Ano

MATEMÁTICA

Nome _____ Class. _____

Data _____ A Profª _____

1. Completa as sequências:

15 – 20 – 25 - - - - - - – 60 - -

10 - - – 40 - - - 70 - -

2. Completa :

$$\begin{array}{c} 37 \\ / \quad | \quad \backslash \\ 20 + 10 + \dots \end{array}$$

$$\begin{array}{c} 90 \\ / \quad | \quad \backslash \\ 40 + 30 + \dots \end{array}$$

$$\begin{array}{c} 60 \\ / \quad | \quad \backslash \\ 25 + 25 + \dots \end{array}$$

3. Escreve por extenso:

63 _____

78 _____

99 _____

4. Completa com os numerais ordinais:

..... décimo

8º _____

..... terceiro

1º _____

..... quinto

2º _____

5. Coloca os sinais <, > ou =

3035

9087

72 17

55 85

57 60

8050

49 49

26 30

6. Faz a leitura dos números:

45 = Quarenta e cinco unidades = 4 dezenas + 5 unidades

19 = _____

62 = _____

90 = _____

7. Coloca por ordem crescente os seguintes números: 75, 15, 82, 37, 90, 29, 8, 10



Problemas:

1. Um castanheiro tinha 87 folhas. Já caíram 15. Quantas folhas há ainda no castanheiro?

Dados

Indico

Opero

R _____

2. Os meninos da escola , apanharam num dia 34 folhas para fazerem um trabalho e no dia seguinte apanharam 5 dezenas. Quantas folhas apanharam nos dois dias?

Dados

Indico

Opero

R _____


3. Do castanheiro da escola caíram 9 dezenas e meia de castanhas, mas os meninos já apanharam 43. Quantas castanhas ainda estão por apanhar?

Dados

Indico

Opero

R _____




AVALIAÇÃO FORMATIVA DE OUTUBRO – 2º Ano

ESTUDO DO MEIO

Nome _____ Class. _____

Data _____ A Profª _____

1. Localiza os sentidos:



2. Relaciona correctamente:

- | | |
|-----------|----------|
| ➤ Tacto | - olhos |
| ➤ Olfacto | - boca |
| ➤ Audição | - nariz |
| ➤ Gosto | - mãos |
| ➤ Visão | - língua |

3. Qual é o sentido que te permite distinguir os cheiros das flores? _____

4. Escreve nomes de alimentos doces. _____

5. Escreve o nome do alimento que gostes mais de comer _____

5. Qual é o órgão que nos permite ter o sentido da visão ? _____



6. Desenha junto de cada frase, o órgão dos sentidos correspondente:

| | |
|-----------------------------------|------------------------------------|
| Como cheiram bem as flores! | Que bom é o chocolate! |
| Que música tão agradável! | Que cores bonitas tem o arco-íris! |
| O teu vestido é macio, é de seda! | |

7. O nosso corpo sofre modificações. Escreve V (verdadeiro) ou F (falso) nas seguintes afirmações:

- O nosso corpo vai crescendo ao longo do tempo _____
- Um bebé tem o mesmo tamanho que uma pessoa adulta _____
- O nosso peso também aumenta com a idade _____
- A dentição também modifica com o tempo _____
- Os bebés nascem com dentes _____
- Os primeiros dentes que nascem às crianças chamam-se dentes de leite _____
- Os dentes de leite duram toda a vida _____
- Os dentes de leite caem por volta dos 3 anos de idade. _____
- Ouvir muito barulho faz mal à audição _____
- Ver televisão muito perto faz mal aos olhos _____



- <http://www.eb1-recovelas.rcts.pt/Fichas/2anofichas.htm>